

# 地理试题

## 考生注意:

1. 本试卷分选择题和非选择题两部分,共 100 分。考试时间 75 分钟。
2. 请将各题答案填写在答题卡上。
3. 本试卷主要考试内容:必修 2 第一章至第三章。

### 一、选择题(本题包括 16 小题,每小题 3 分,共 48 分。每小题只有一个选项符合题意)

户籍人口是指依法在某地公安户籍管理机关登记了户口的人口。常住人口是指实际居住在某地一定时间(半年以上)的人口。2017 年,武汉市打响了全国人才争夺战第一枪。图 1 为 2000—2022 年我国武汉市户籍人口与常住人口增量变化统计图。据此完成 1~3 题。

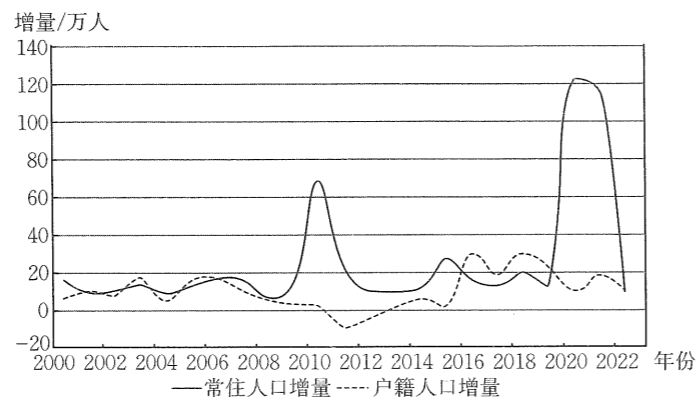


图 1

1. 影响 2012—2022 年武汉市常住人口数量变化的主要因素是  
①人口年龄结构 ②婚姻家庭 ③经济 ④政策  
A. ①② B. ③④ C. ②③ D. ①④
2. 2020—2022 年,武汉市常住人口数量的变化对该市产生的影响最可能是  
A. 加剧人地矛盾 B. 制约经济发展  
C. 留守儿童问题加剧 D. 加剧人口老龄化
3. 2016—2020 年武汉市户籍人口增量明显较前期大,可能是该时期武汉市  
A. 延迟退休年龄 B. 降低人口落户门槛  
C. 调整产业结构 D. 外来人口明显增多

土壤环境容量,又称土壤负载容量,是在维持土壤正常结构与功能、保证农产品产量与质量的前提下,土壤环境所能容纳污染物的最大负荷量。据此完成 4~6 题。

4. 影响土壤环境容量大小的因素有  
①土壤污染物含量 ②污染物类型 ③土壤类型 ④土壤温度  
A. ①② B. ③④ C. ②③ D. ①④
5. 下列能提高土壤环境容量的措施是  
A. 提高复种指数 B. 提高监测技术  
C. 控制污染物排放 D. 改良土壤结构

【◇高一地理 第 1 页(共 4 页)◇】

### 6. 测算土壤环境容量的意义有

- ①扩大耕地面积 ②保障农产品质量 ③提高土壤肥力 ④制定排放标准  
A. ①② B. ①③ C. ②④ D. ③④

灵石县位于山西省中部,全年降水少,水资源短缺,夏季为雨季,气候炎热,冬春季寒冷干燥,多风沙天气。灵石县境内民居多为单坡顶式屋顶,屋顶只有一侧是斜平面。斜面向院内倾斜,外侧墙体高,且窗体较小。图 2 示意灵石县某单坡顶式民居。据此完成 7~8 题。

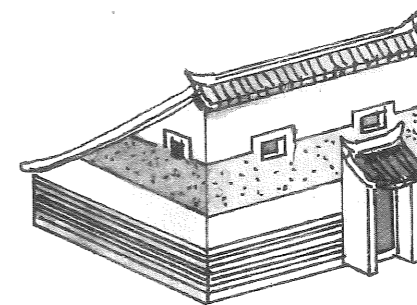


图 2

7. 图中民居仅单坡外侧留小窗体的主要目的是  
①减少冷空气入室 ②减轻受风沙灾害的影响 ③增加光照面积 ④增强通风效果  
A. ①② B. ①④ C. ②③ D. ②④
8. 屋顶单斜面向院内倾斜,有利于  
A. 减弱院内光照 B. 向外排泄雨水  
C. 预防火灾影响 D. 储存生活用水

世界城镇化年均增速 0.4% 左右。城镇化年均增速低于 0.2%,为低速城镇化;年均增速 0.2%~0.6%,为中速城镇化;年均增速 0.6%~1.0%,为中高速城镇化;年均增速高于 1.0%,为高速城镇化。泰国位于东盟中心位置,是新兴工业国家和市场经济体之一,实行自由经济政策,属外向型经济。图 3 示意 2017—2022 年泰国城镇人口和农村人口数量及占比变化。据此完成 9~10 题。

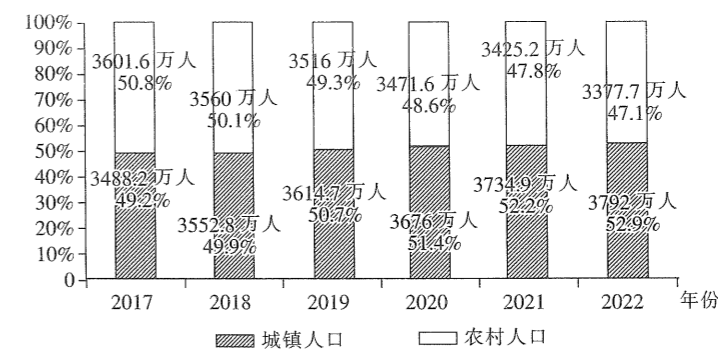


图 3

9. 2017—2022 年泰国城镇化水平稳步提升,主要得益于该国  
A. 气候条件优越 B. 农业产量递增 C. 工业化的推进 D. 人口数量增多
10. 推测泰国目前城镇化过程中出现的主要问题有  
①劳动力短缺 ②交通拥堵 ③城镇化率增长缓慢 ④生态环境恶化  
A. ①② B. ①③ C. ②④ D. ③④

【◇高一地理 第 2 页(共 4 页)◇】

服务业是为社会生产和生活服务的产业,根据经营目的差异可分为商业性服务业和非商业性服务业。图4为我国东南沿海某城市局部区域图。据此完成11~13题。

11. 图中商业小区选址的主导因素是

- A. 交通
- B. 租金
- C. 土地规模
- D. 劳动力

12. 图中非商业性服务业及其布局原则对应正确的是

- A. 小学—交通最优原则
- B. 医院—市场最优原则
- C. 火电厂—均衡原则
- D. 小学—均衡原则

13. 图中甲处最适宜布局的服务业为

- A. 教育培训
- B. 创意书吧
- C. 幼儿园
- D. 大型物流中心

青县作为河北省蔬菜生产大县,被称为“蔬菜之乡”。近年来,随着互联网时代的高速发展和国家惠农政策的相继出台,青县紧盯“互联网+”发展趋势,积极搭建电商特色平台,不断探索有效转化电商助农成果的新模式和新方法,助推农产品上市。据此完成14~16题。

14. 青县蔬菜的主要销售市场是

- A. 青县县城
- B. 京津冀地区
- C. 欧美地区
- D. 上海

15. 青县在“互联网+”的新模式下,将显著

- A. 提高农产品质量
- B. 增加农产品种类
- C. 拓宽市场范围
- D. 降低生产成本

16. 该电商平台属于

- A. 生产性服务业
- B. 生活性服务业
- C. 公共服务业
- D. 非服务业

二、非选择题(本大题共3题,共52分)

17. 阅读图文材料,完成下列要求。(18分)

缅甸是我国经陆路通向“21世纪海上丝绸之路”的重要节点国家,而且建设“中缅经济走廊”带动的系列重大合作将引起缅甸人口格局的改变。图5为缅甸部分地理事物图,图6示意缅甸人口密度分布。

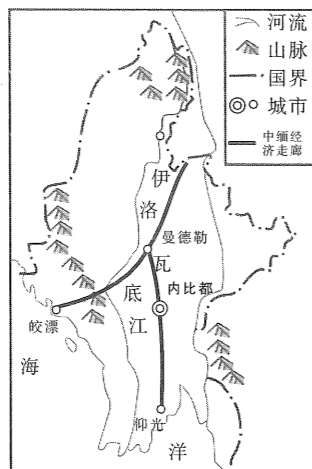


图5

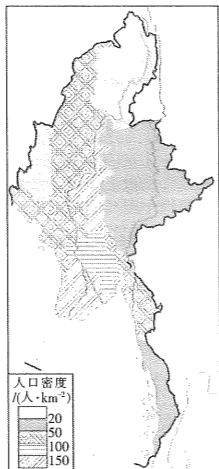


图6

(1)描述缅甸人口密度分布特征。(6分)

(2)分析缅甸南部与北部人口密度差异的形成原因。(6分)

(3)说明“中缅经济走廊”的建设对缅甸人口分布格局的影响。(6分)

18. 阅读图文材料,完成下列要求。(16分)

图7为某城市的新城规划图,后期在城市建设过程中,又做了部分调整。目前该新城区被称为该城市“最适宜居住的区域”。

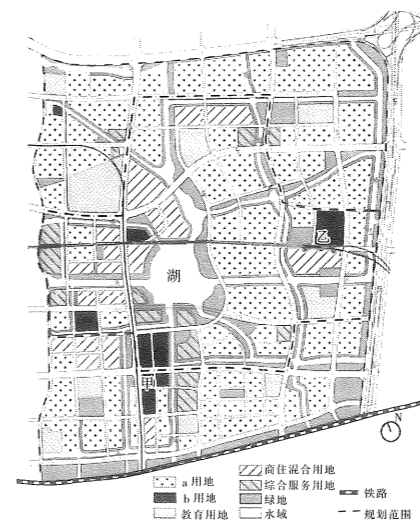


图7

(1)指出图中a、b用地类型。(4分)

(2)该区计划在甲、乙两处综合客运枢纽中拆除一处,你认为哪一处最可能被拆除?并说明理由。(6分)

(3)该新城区被称为该城市“最适宜居住的区域”,请说明原因。(6分)

19. 阅读图文材料,完成下列要求。(18分)

北流市是我国岭南陶瓷文化的发祥地之一,具有悠久的陶瓷生产历史,产品销往国内外。2002年,北流市成立日用陶瓷工业园区,并同步推进陶瓷建材产业园、电子产业园、产品深加工产业园、家具产业园等其他产业园规划建设。当前,该园区已经发展成为集生产、研发、销售、服务和陶瓷文化展示于一体,仓储、物流、博览、陶吧、监管等配套完善,功能齐全的现代化工业园区。图8示意北流市地理位置。

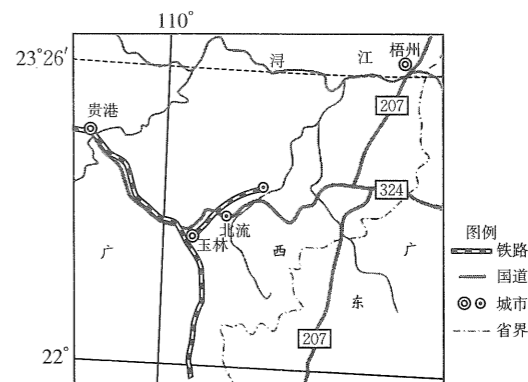


图8

(1)简述利于北流市发展日用陶瓷产业的社会经济条件。(6分)

(2)说明北流市采用产业集群思路发展陶瓷工业园区的原因。(6分)

(3)推测北流市将日用陶瓷工业园区升级为现代化工业园区所采取的措施。(6分)